

Ondervinding van tyd

1. Gebruik die 'pendulum' deur dit kant van kant te swaai en tel in ene.

a. Hou jou asem op en tel tot 10.

Hoe voel dit?

b. Skud hande met jou vriende in die groep en tel tot 15

Hoe voel dit?

c. Maak jou oe toe en tel tot 20.

Hoe voel dit?

d. Spring op een been en tel tot 30.

Hoe voel dit?

e. Skryf somme wat vir jou die antwoord van 60 gee. Tel tot 45.

Hoe voel dit?

2. Orden die aktiwiteite volgens 'n paslike tyd

Skool verdaag; staan op en was; eet tydens pouse; sport oefening; gaan skool toe; gaan slaap; doen huiswerk; eet ontbyt

1.

2.

3.

4.







5.

6.

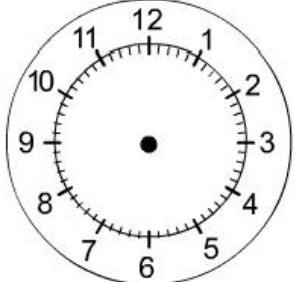
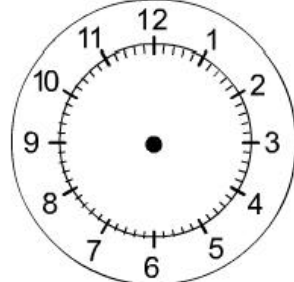
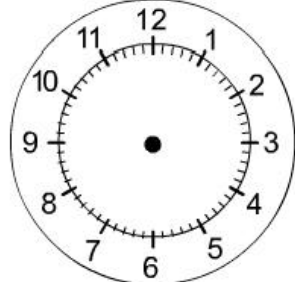
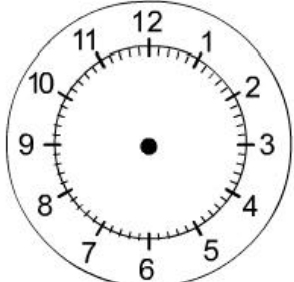
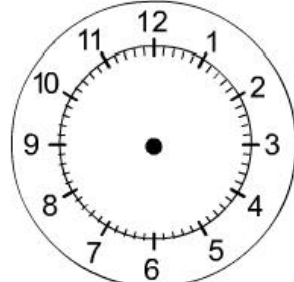
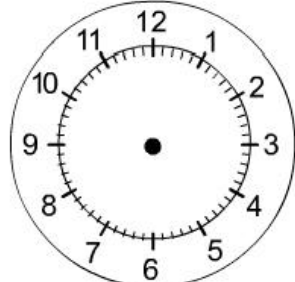
7.

8.

1. Sê hoe laat dit is op elke klok:

2. Teken hoe laat dit is op die klok

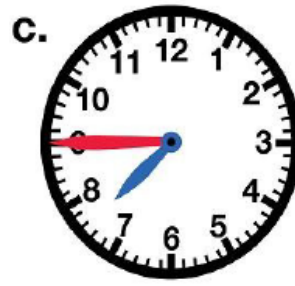
		
Twaalf uur	Half twee	Kwart oor vier
		
Twintig minute oor agt	40 min oor ses	Kwart voor een

Skryf die tyd op twee verskillende maniere. Sien voorbeeld.



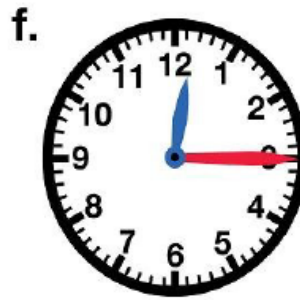
15 minute oor 2
Kwart oor twee






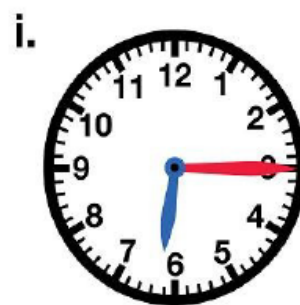












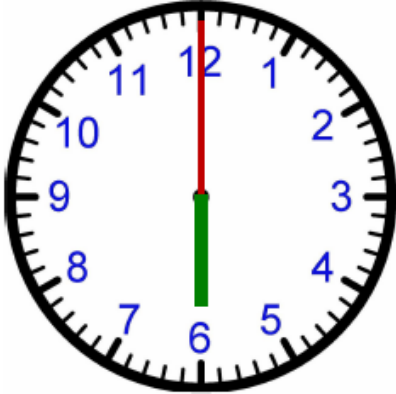


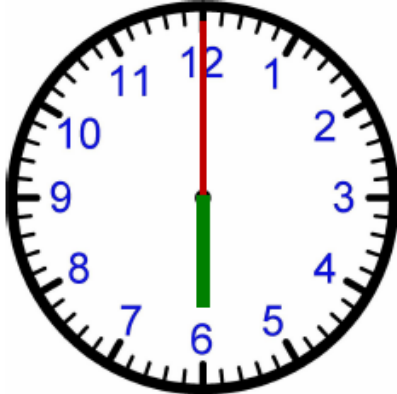








Verloop van tyd. Die “uur reël”

	<div style="display: flex; justify-content: space-around; align-items: flex-start;"> <div style="text-align: center;"> <p>Clock A</p>  </div> <div style="text-align: center;"> <p>Clock B</p>  </div> </div> <p>What is the tyd op A? Hoeveel tyd het verloop tussen klok A en B?</p> <p>What is the tyd op B?</p>
<p>2.</p>	<div style="display: flex; justify-content: space-around; align-items: flex-start;"> <div style="text-align: center;"> <p>Clock A</p>  </div> <div style="text-align: center;"> <p>Clock B</p>  </div> </div> <p>What is the tyd op A? Hoeveel tyd het verloop tussen klok A en B?</p> <p>What is the tyd op B?</p>
<p>3.</p>	<div style="display: flex; justify-content: space-around; align-items: flex-start;"> <div style="text-align: center;"> <p>Clock A</p>  </div> <div style="text-align: center;"> <p>Clock B</p>  </div> </div> <p>What is the tyd op A? Hoeveel tyd het verloop tussen klok A en B?</p> <p>What is the tyd op B?</p>

<p>4.</p>	<p>Clock A</p>  <p>What is the tyd op A? Hoeveel tyd het verloop tussen klok A en B?</p>	<p>Clock B</p>  <p>What is the tyd op B?</p>
<p>5.</p>	<p>Clock A</p>  <p>What is the tyd op A? Hoeveel tyd het verloop tussen klok A en B?</p>	<p>Clock B</p>  <p>What is the tyd op B?</p>
<p>6.</p>	<p>Clock A</p>  <p>What is the tyd op A? Hoeveel tyd het verloop tussen klok A en B?</p>	<p>Clock B</p>  <p>What is the tyd op B?</p>

Klok konfigurasies

1. Maak 'n paierbord klok en plaas eers die kort wyser en dan die langwyser.

- a.) Die kort arm toon die _____ wyser.
- b.) Die lang arm toon die _____ wyser.
- c.) Daar is _____ primêre verdelings op die horlosie se gesig.

2. Voltooi die volgende vrae. / Complete the following questions.

- a.) Die getal 1 op die horlosie se gesig tel 1 uur en ook _____ minute.
- b.) Die getal 3 op die horlosie se gesig tel 3 uur en ook _____ minute.
- c.) Die getal 6 op die horlosie se gesig tel _____ en ook _____ minute.
- d.) Die getal 9 op die horlosie se gesig tel _____ en ook _____ minute.
- e.) Die getal 12 op die horlosie se gesig tel _____ en ook _____ minute.

Aktiwiteit

1.) Ek verlaat die huis om sewe uur en kom kwart oor nege uur terug.

Hoe lank was ek weg?

2.) Ons verlaat die huis om 8 30 die oggend en kom 10 uur in Port Elizabeth.

Hoe lank het ons na Port Elizabeth gery?

3.) Die “Anaconda”fiek op televisie begin 8 uur. Dit is nou kwart voor 8.

Hoe lank sal jy wag?

4.) Die “Oh Schucks” film op t.v. begin sewe dertig. Dit speel vir 1 uur en 5 minute lank.

Hoe laat sal die film eindig?

5.) My t.v. skedule vir ‘n program.

Bepaal hoe laat die programme sal eindig.

MY TV PROGRAM	PROGRAM BEGIN	PROGRAM EINDIG	HOE LANK
Dragon Ball Z	Half past four		35 minute
Ben 10	Quarter to 5		45 minute
Phineas and Pherb	Quarter past 3		25 minute

6.) ‘n Taxi rooster

Bepaal die vertrek tyd

TAXI VERTREK TEEN	TAXI ARRIVEER BY	RIT TYD
	Two o'clock	45 minute
	3:30pm	1 uur
	Seven thirty	1 uur en 15 minute